

II MEMORIAŁ URSZULI MARCINIAK

J2

IMIĘ I NAZWISKO UCZESTNIKA


WĄŻ SAPERA

	2						
	5	4				7	
				1			
				3			
A				1 1	2		1
				3	3		2
2	5		B			C	1
		1	1				
		2	2				
		1	2			2	1

Jeśli pole jest zamalowane, postaw "W".
W przeciwnym przypadku postaw "X".

A	B	C

SUDOKU



			3				
8		9			B	1	
					9	8	
	8	5	4				3
			1		A	7	
		8	7	6			
	C	3	2			4	
6	4						
1	3					9	6

s01346

Podaj cyfry umieszczone w oznaczonych polach.

A	B	C

UKOŚNE DZIAŁANIA

4	1	3	2
1-	N	1-	
2	3	1	4
6+	5+		
3	4	2	1
5+		5+	
1	2	4	3

5			6		
	3-	A			
	3-		7+	6	
4				1	
				1-	
6	4	B	3		
	6		C		5
				1-	
1			5	2	

Podaj cyfry umieszczone w oznaczonych polach.

A	B	C


4			5		
12×		A		7+	
	2÷		6	2-	
				3	0-
B	5	2	6	3-	3
			5	2	
	2-		2-		
6	1			5	C

Podaj cyfry umieszczone w oznaczonych polach.

A	B	C

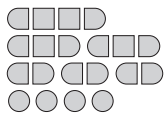
Przykład:

1		●	2	●
●	4	3	5	
●		●	●	●
3	4	3	4	3
●	●			●



SAPER NA MORZU

			0			2	3			
	0	0		1	2					0
	0		1					2	1	
	1			A		2		2	0	
		1		2						0
1	1	1			1			3		
		1	3		4	2	2	B	2	
	1			C						0
					2			0	1	1
3	4	3	1			0				
			1	0		0		0		1
2	3		1							



Jeśli na oznaczonym polu jest statek, wpisz "Z".
W przeciwnym przypadku postaw "X".

A	B	C

0	0	0	0	0						
		1			0				0	
		0	1	1		2				1
1			1	1	2	A	3			
		0			2			2		1
1			0	0				3		
2	2		0					B		1
				1	C	2				2
1	1	2		2			1	1		
0		2			1			2	1	1
0				3					3	
	0	2			0		2		2	1

Jeśli na oznaczonym polu jest statek, wpisz "Z".
W przeciwnym przypadku postaw "X".

A	B	C